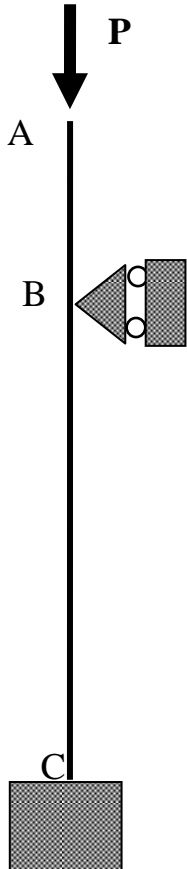


Exercice N° 1



On veut étudier la stabilité de la structure ci-contre, constituée d'une poutre AC de longueur  $L$ , de section d'inertie  $I$ , de matériau ayant un module d'Young  $E$ . Cette poutre est en liaison encastrement au point C. Elle a un appui glissant au point B défini par la distance  $AB = a$ .

On applique une charge de compression  $P$  à l'extrémité A de la poutre AC.

1 – Donner la méthode et les équations permettant de calculer la charge critique de flambement. Que devient cette charge lorsque la distance  $a$  est nulle ?

2 – En considérant que la déformée en flambement de la poutre AC peut être assimilée à une équation polynomiale du troisième degré et en utilisant la méthode de Rayleigh, donner une valeur approximative de la charge critique de flambement lorsque la distance  $a$  est non nulle.

**Formulaire**

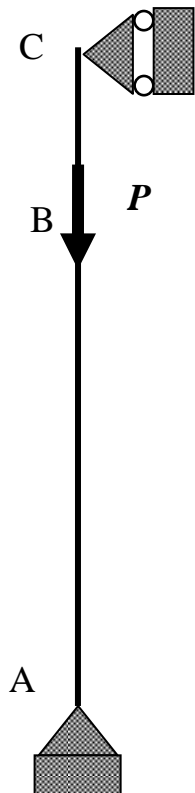
Energie de déformation d'une poutre en flexion :

$$\delta^2 U = \frac{1}{2} \int_0^L E I \left( \frac{d^2 w}{dx^2} \right)^2 dx$$

Variation de longueur d'une poutre en flexion :

$$\varepsilon = \frac{1}{2} \int_0^L \left( \frac{dw}{dx} \right)^2 dx$$

### Exercice N° 2



On veut étudier la stabilité de la structure ci-contre, constituée d'une poutre AC de longueur  $L$ , de section d'inertie  $I$ , de matériau ayant un module d'Young  $E$ . Cette poutre est en liaison rotule au point A et en appui glissant en C. Elle supporte une charge axiale  $P$  au point B défini par la distance  $AB = b$ .

1 – On veut calculer la charge critique de flambement en utilisant la méthode de Rayleigh. Pour cela on utilise l'équation suivante de la déformée :

$$w(x) = a_0 + a_1 x + a_2 x^2$$

Après avoir déterminé les coefficients en utilisant les conditions cinématiques, donner la valeur de la charge critique de flambement. Que devient-elle lorsque  $b = L$  ?

2 – Toujours en utilisant la méthode de Rayleigh, donner la forme de l'équation de la déformée polynomiale permettant de respecter à la fois les conditions cinématiques et les conditions statiques. Calculer alors la nouvelle valeur de la charge critique de flambement. Que devient-elle lorsque  $b = L$  ?  
Conclusion.

#### Formulaire

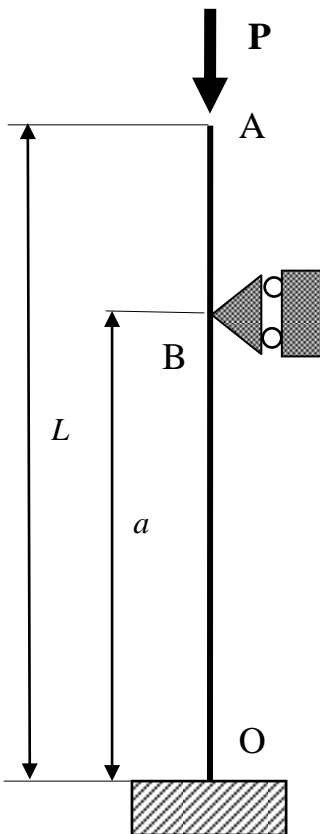
Energie de déformation d'une poutre en flexion :

$$\delta^2 U = \frac{1}{2} \int_0^L E I \left( \frac{d^2 w}{dx^2} \right)^2 dx$$

Variation de longueur d'une poutre en flexion :

$$\varepsilon = \frac{1}{2} \int_0^L \left( \frac{dw}{dx} \right)^2 dx$$

Exercice N° 3



On veut étudier la stabilité de la structure ci-contre, constituée d'une poutre de longueur  $L$ , de section d'inertie  $I$ , de matériau ayant un module d'Young  $E$ . La section en O est encastree sur un massif indéformable, le point B (situé à la distance  $a$  du point O) est en appui simple.

On applique une charge  $P$  à l'extrémité A de la poutre OA.

1 – En considérant que la réaction d'appui en B est l'inconnue hyperstatique, calculer analytiquement la charge critique de la poutre. A défaut d'une solution analytique complète, on fera le calcul le plus loin possible.

2 – Que devient cette charge critique lorsque que la distance  $a$  est nulle ?

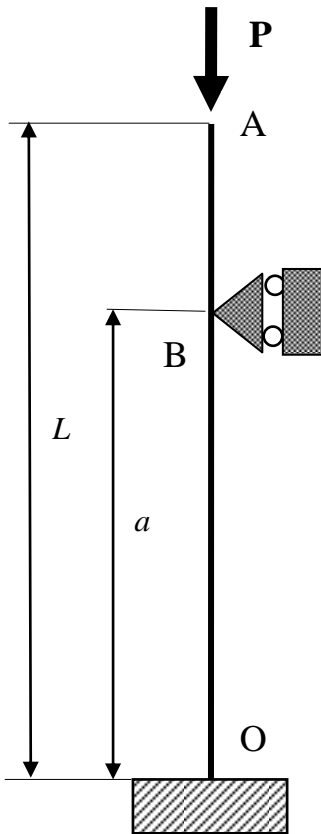
3 – En considérant que la déformée en flambement de la poutre OA peut être assimilée à une équation polynomiale du troisième degré et en utilisant la méthode de Rayleigh, donner une valeur approximative de la charge critique de flambement.

**Formulaire**

Energie de déformation d'une poutre en flexion : 
$$\delta^2 U = \frac{1}{2} \int_0^L E I \left( \frac{d^2 w}{dx^2} \right)^2 dx$$

Variation de longueur d'une poutre en flexion : 
$$\varepsilon = \frac{1}{2} \int_0^L \left( \frac{dw}{dx} \right)^2 dx$$

### Exercice N° 4



On veut étudier la stabilité de la structure ci-contre, constituée d'une poutre de longueur  $L$ , de section d'inertie  $I$ , de matériau ayant un module d'Young  $E$ . La section en O est encastree sur un massif indéformable, le point B (situé à la distance  $a$  du point O) est en appui simple.

On applique une charge  $P$  à l'extrémité A de la poutre OA.

1 – En considérant que la réaction d'appui en B est l'inconnue hyperstatique, calculer analytiquement la charge critique de la poutre. A défaut d'une solution analytique complète, on fera le calcul le plus loin possible.

2 – Que devient cette charge critique lorsque que la distance  $a$  est nulle ?

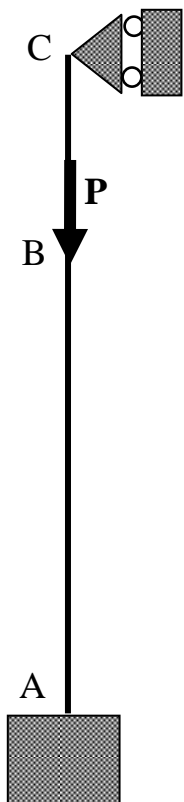
3 – En considérant que la déformée en flambement de la poutre OA peut être assimilée à une équation polynomiale du troisième degré et en utilisant la méthode de Rayleigh, donner une valeur approximative de la charge critique de flambement.

#### Formulaire

Energie de déformation d'une poutre en flexion : 
$$\delta^2 U = \frac{1}{2} \int_0^L E I \left( \frac{d^2 w}{dx^2} \right)^2 dx$$

Variation de longueur d'une poutre en flexion : 
$$\varepsilon = \frac{1}{2} \int_0^L \left( \frac{dw}{dx} \right)^2 dx$$

Exercice N° 5



On veut étudier la stabilité de la structure ci-contre, constituée d'une poutre AC de longueur  $L$ , de section d'inertie  $I$ , de matériau ayant un module d'Young  $E$ . Cette poutre est en liaison encastrement au point A. Elle a un appui glissant au point C.

On applique une charge de traction - compression  $P$  au point B défini par la distance  $AB = a$ .

1 – Donner la méthode et les équations permettant de calculer la charge critique de flambement. Calculer cette charge lorsque la distance  $a$  est égale à la longueur de la poutre  $L$  ?

2 – En considérant que la déformée en flambement de la poutre AC peut être assimilée à une équation polynomiale du troisième degré et en utilisant la méthode de Rayleigh, donner une valeur approximative de la charge critique de flambement lorsque la distance  $a$  est non nulle.

**Formulaire**

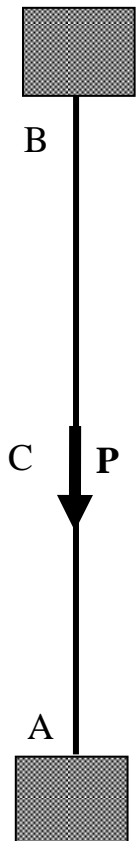
Energie de déformation d'une poutre en flexion :

$$\delta^2 U = \frac{1}{2} \int_0^L E I \left( \frac{d^2 w}{dx^2} \right)^2 dx$$

Variation de longueur d'une poutre en flexion :

$$\varepsilon = \frac{1}{2} \int_0^L \left( \frac{dw}{dx} \right)^2 dx$$

Exercice N° 6



On veut étudier la stabilité du poteau AC de longueur  $L$ , de section d'inertie  $I$  et de matériau ayant un module d'Young  $E$ . Le pied (point A) et la tête (point C) du poteau sont encastres dans un bâti.

On applique une charge  $P$  de traction – compression du poteau au point B, milieu du poteau. On veut déterminer la charge critique de flambement.

1 – Donner la méthode et l'équation finale permettant de calculer la charge critique de flambement.

2 – En considérant que la déformée en flambement de la poutre AC peut être assimilée à une équation polynomiale et en utilisant la méthode de Rayleigh, donner une valeur approximative de la charge critique de flambement.

**Formulaire**

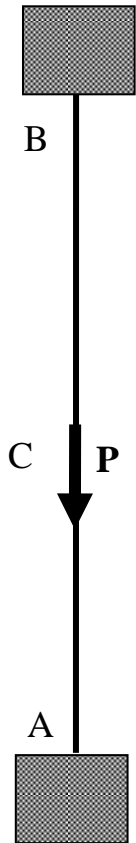
Energie de déformation d'une poutre en flexion :

$$\delta^2 U = \frac{1}{2} \int_0^L E I \left( \frac{d^2 w}{dx^2} \right)^2 dx$$

Variation de longueur d'une poutre en flexion :

$$\varepsilon = \frac{1}{2} \int_0^L \left( \frac{dw}{dx} \right)^2 dx$$

Exercice N° 7



On veut étudier la stabilité du poteau AC de longueur  $L$ , de section d'inertie  $I$  et de matériau ayant un module d'Young  $E$ . Le pied (point A) et la tête (point C) du poteau sont encastres dans un bâti.

On applique une charge  $P$  de traction – compression du poteau au point B, milieu du poteau. On veut déterminer la charge critique de flambement.

1 – Donner la méthode et l'équation finale permettant de calculer la charge critique de flambement.

2 – En considérant que la déformée en flambement de la poutre AC peut être assimilée à une équation polynomiale et en utilisant la méthode de Rayleigh, donner une valeur approximative de la charge critique de flambement.

**Formulaire**

Energie de déformation d'une poutre en flexion :

$$\delta^2 U = \frac{1}{2} \int_0^L E I \left( \frac{d^2 w}{dx^2} \right)^2 dx$$

Variation de longueur d'une poutre en flexion :

$$\varepsilon = \frac{1}{2} \int_0^L \left( \frac{dw}{dx} \right)^2 dx$$